

宿題5

提出不要

1. 神取『ミクロ経済学の技』(自分で答え合わせをする).

- (1) 第2章復習問題 A3, A4, A6.
- (2) 第2章発展問題 B3, B5.
- (3) 第3章復習問題 A1(2).

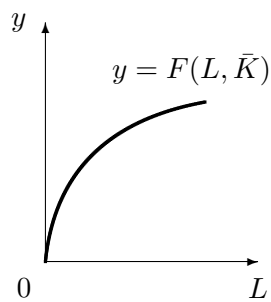
2. 奥野『ミクロ経済学演習』(自分で答え合わせをする).

- (1) 第2章基本事項の確認 (2), (3).
- (2) 第2章問題 2.3, 2.4, 2.5(1), (2).

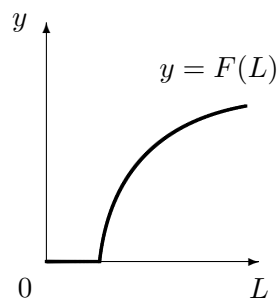
3. 『経出る』(自分で答え合わせをする).

- (1) 第5章例題 5.8, 練習問題 5.13–5.18.

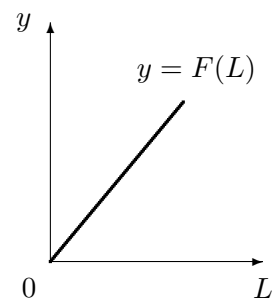
4. 以下の(a)–(c)のそれぞれの生産関数について、まず可変費用曲線の概形を図示し、次に平均可変費用曲線・限界費用曲線・供給曲線の概形を図示せよ。ただし、準固定費用(サックされていない固定費用)は可変費用に含める。



(a)  $\bar{K}$  サックされていない



(b)  $K$  なし



(c)  $K$  なし